

8 Findest du diesen Gegenstand im Museum? ein Tip: Er ist größer, als hier auf dem Bild gezeigt.

Einen solchen Gegenstand nennt man:



-----  
④




Heimatmuseum

Gundheim



Hauptstraße 19, 67599 Gundheim  
 heimatverein.gundheim@gmx.de  
 www.heimatverein-gundheim.de  
 Peter Schreiber: 06244/7725  
 Phillipp Leidemer: 06244/4450  
 Udo Oelgeschläger: 06244/354  
 Hans Nußbaum: 06244/4372



Mail:  
Internet:



Arbeitsbogen

9 Dieses Gerät dient dazu, einen Rohstoff zu gewinnen, aus dem dann zum Beispiel Kleidung hergestellt wird. Dieser Rohstoff wird von Tieren produziert. Wie nennt man diesen Rohstoff?



-----  
⑨



Ein solches Gerät wird auch heute noch benutzt. Kannst du erklären, wozu man es nutzt?

---



---



---



10 Heute wird das Gewicht einer Ware in Kilogramm (Kg) angegeben. Früher benutzte man die Maßeinheit 'Pfund'. Du findest im Museum 20 Gewichte mit verschiedenen Abkürzungen. Schreibe diese unter die Bilder.

A

B

C

D

E



—

—

—

—

—



Hier kannst du kontrollieren, ob du die richtigen Antworten gewusst hast. Einige Antworten musst du auf die getrickelten Linien schreiben. Darunter findest du die Zahlen von 1 bis 10. Trage die so markierten Buchstaben in der richtigen Reihenfolge hier ein.

Wir leben ...



1	2

3	4	5	6	7	8	9	10		

Name:

Klasse:

1 Beide Geräte haben die gleiche Aufgabe.

Es sind: u e -----  
⑧

A



B



Überlege, wie die Geräte funktionieren.

Gerät A:

Gerät B:



Ähnliche Geräte werden auch heute noch benutzt, dies ist eine:

2 a e -----  
③

Aus welchem Material besteht das Gerät?

a) früher:

b) heute:




**3** Früher machten die Menschen die Butter, die sie benötigten, selbst.

Butter wird aus \_\_\_\_\_ hergestellt. Wenn diese schnell bewegt wird, entsteht zuerst Sahne und dann Butter.


Wie nennt man das Gerät? \_\_\_\_\_ r \_\_\_\_\_  
 (7)



Kannst du beschreiben, wie das Gerät funktioniert?



**4** Um das Getreidekorn aus den Ähren herauszubekommen, benutzte man früher solche Geräte.



*Bevor ich den Sack voll mit Getreidekörnern bekam musste ich erst .....*



Dieser Arbeitsvorgang hat einen bestimmten Namen:

\_\_\_\_\_ (5)

Ergänze bitte den Namen für das

Gerät: \_\_\_\_\_ f l e g e l

Heute benutzen wir ein anderes Gerät für diese Arbeit. Kannst du es nennen?

(2) a e \_\_\_\_\_



**5** Wie nennt man das Gerät, das du im Bild A siehst?


Im Bild B siehst du, wie es benutzt wurde. Erkläre!



\_\_\_\_\_ (10)



Nimm das Gerät einmal in die Hand. Kannst du erklären, warum das Pferd im Bild C so erschöpft aussieht?



**6** Welche Arbeit verrichtet der Bauer?


\_\_\_\_\_ a e \_\_\_\_\_ (6)



Wie wird diese Arbeit heute verrichtet?



**7** Dieses Gerät fand sich früher in vielen Haushalten. Wozu hat es gedient?



Bei diesem Gegenstand handelt es sich um einen:

\_\_\_\_\_ (1)

